

NA ŁĄCE



29.04.2020

OSKAR

AUTORKA: WIKI



AUTOR:

SERDECZNE PODZIĘKOWANIA

- Dziękuję dzieciom za udział w konkursie fotograficznym dotyczącym roślin i zwierząt na łące. Przesłane zdjęcia są ozdobą dzisiejszej prezentacji, a wszyscy uczestnicy otrzymują oceny celujące z edukacji technicznej.



PLAN NA DZISIAJ

- Ed. polonistyczna
- Ed. przyrodnicza
- Ed. matematyczna





AUTOR: FRANEK

AUTOR: OLEK F.
O.

AUTOR: SZYMON

ED. PRZYRODNICZA

OBEJRZYJ ILUSTRACJĘ W PODRĘCZNIKU STR. 14-15




ODCINEK „SKRZATA BORÓWKI” POD TYTUŁEM „ŁĄKA”

- <https://youtu.be/LKLf5EN1Ff4>
- Po obejrzeniu tego filmu będziesz mieć dużą wiedzę na temat mieszkańców łąk oraz roślin, jakie je porastają.



Milego oglądania!!

A TERAZ CIEKAWOSTKA ... CZY
WIESZ....



Autor: Nikodem

CZYM SIĘ RÓŻNI ŁĄKA OD TRAWNIKA?

TRAWNIK

- To obszar porośnięty trawą – zazwyczaj jednym rodzajem, który człowiek hoduje, przycina, kosi, by była ogrodowym dywanem.



ŁĄKA

- To obszar porośnięty różnymi rodzajami roślin, zazwyczaj rośnie naturalnie, dziko, nikt specjalnie jej nie pielęgnuje.





CIEKAWOSTKA NR 2

CZY WIESZ, ŻE OBECNIE ZAKŁADA SIĘ ŁĄKI W ŚRODKU MIAST, BY OCZYSZCZAĆ POWIETRZE I CIESZYĆ OCZY MIESZKAŃCÓW ORAZ OZDABIAĆ MIASTO. TAKIE ŁĄKI MOŻNA ZOBACZYĆ NA PRZYKŁAD W BIAŁYMSTOKU.

OTO KOLEJNA STRONA PODRĘCZNIKA:

Ustnie wykonaj ćwiczenie 1.

W zeszyte z przyrody zapisz:

NZ 29.04.2020

Przepisz 2 prawdziwe zdania z kropki z ćwiczenia 3.

ed. polonistyczna:

Ustnie wykonaj ćw. 2 i 4.


W zeszyte z polskiego zapisz:

NZ 29.04.2020


Ćw. 4 s. 16

(Ułóż zdania z wyrażeniami pachnące kwiaty i cierpliwy pająk)

1. Wymień jak najwięcej nazw zwierząt, które można spotkać na łące.
2. Przeczytaj pytania. Odpowiedzi wraz z właściwym zakończeniem napisz w zeszyte.

Jaki jest ? Ślimak jest .

Jaka jest ? Biedronka jest .

Jakie są ? Motyle są .

3. Przyjrzyj się zdjęciom przedstawiającym rośliny łąkowe. Które z nich są ci znane? Wymień nazwy innych roślin, które rosną na łąkach.



babka
zwyczajna



chaber
łąkowy



kozłek
lekarski



mniszek
lekarski



stokrotka
pospolita

- Wskaż zdania, które zawierają prawdziwe informacje.

Niektóre rośliny łąkowe wykorzystywane są w medycynie.

Rośliny są pożywieniem i schronieniem dla zwierząt.

Nad niektórymi łąkami w Polsce nigdy nie pada deszcz.

4. Przeczytaj i napisz w zeszyte pasujące do siebie pary wyrazów.

kumkające	mrówka	cierpliwy	pachnące	pająk
kwiaty	kolorowa	pracowita	ważka	żaby



Autor: Kuba



Autorka: Misia

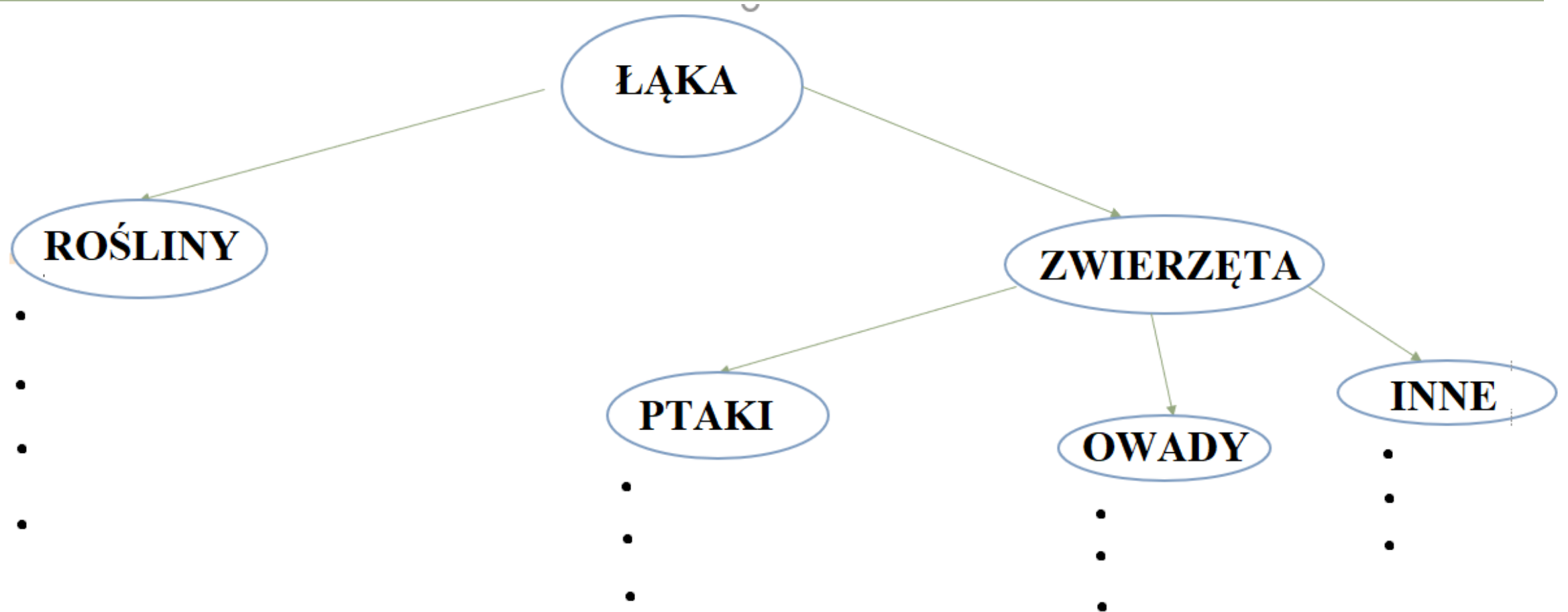
W ĆWICZENIACH ZE SŁONIEM S. 62-63
WYKONAJ ĆWICZENIA:
2, 4 ORAZ 5.

ĆW. 1 I 3 ROBISZ TYLKO JEŚLI CHCESZ PORYSOWAĆ I
POKOLOROWAĆ.



Autorka: Lena

W ZESZYCIE Z PRZYRODY NARYSUJ SCHEMAT I UZUPEŁNIJ GO (JAK NIE CHCESZ RYSOWAĆ POBIERZ I WYDRUKUJ Z LINKA NA DOLE)



ED. MATEMATYCZNA

- Widziałam, że 16 osób wykonało test na www.eduelo.pl ze świetnymi wynikami. Brawo za Waszą pracę!!
- Wykonaj zadanie 1 z podręcznika w zeszycie oraz zadania w ćwiczeniach matematycznych ze str. 45.

1. Napisz w zeszycie działania pasujące do rysunków. Oblicz.



$$3+5+1=9$$



2. Przeczytaj wypowiedzi dzieci. Powiedz, kto ma rację.

Marta: Liczba 13 jest większa od 11 i mniejsza od 17.

Kamil: Liczba 9 jest większa od 7 i mniejsza od 8.

Olga: Liczba 15 jest mniejsza od 20 i większa od 16.

Darek: Liczba 14 jest większa od 10 i mniejsza od 15.

Julia: Liczba 16 jest większa od 15 i mniejsza od 16.

Magda: Liczba 11 jest większa od 10 i mniejsza od 11.



Autor: Julek A.



Autor: Adrian



Autor: Oskar S.

KOLEJNE PIĘKNE ZDJĘCIA PRZYRODY 😊

NA KONIEC OBEJRZYJ KRÓTKIE NAGRANIE OBRAZKÓW ŁĄK Z MUZYKĄ EDWARDA GRIEGA „PORANEK”

Filmik poleca...

on uwielbia hasać po łące

- <https://youtu.be/bgmm4e9ARw4>



Mój Odi

Autor: Bartek

DO WYSŁANIA NA
OCENĘ:

TYLKO SCHEMAT WYKONANY W
ZESZYCIE Z PRZYRODY.





DZIĘKUJĘ ZA
DZISIAJ!